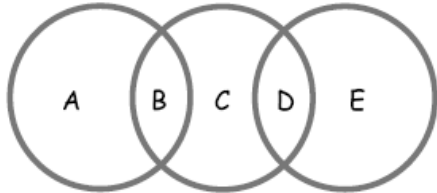


נפתור , נלמד ונבין

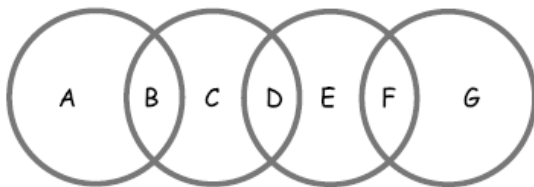
רשמו את המספרים 5 – 1 במקום האותיות ,

כך שסכום כל עיגול יהיה שווה

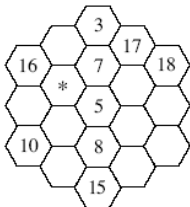


רשמו מספרים מ-1 – 7 במקום האותיות ,

כך שסכום כל העיגולים יהיה שווה



מה יהיה סכום כל עיגול אם נשתמש במספרים 9 – 1 ב-5 עיגולים ?




מהו ערך המספר שנרשום במקום ה- * כוכבית

אם סכום כל שורה בכוורת שווה 38

הרכיבו מכל 2 מספרים תרגיל חיבור

כמה סכומים שונים אפשר לקבל ?



רשמו מהי החוקיות ? מה מאפיין את התרגילים ?

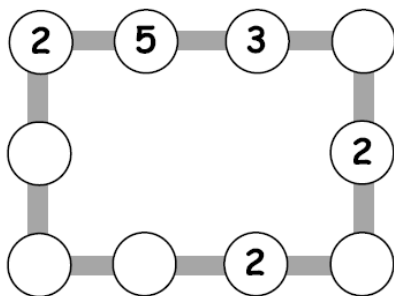
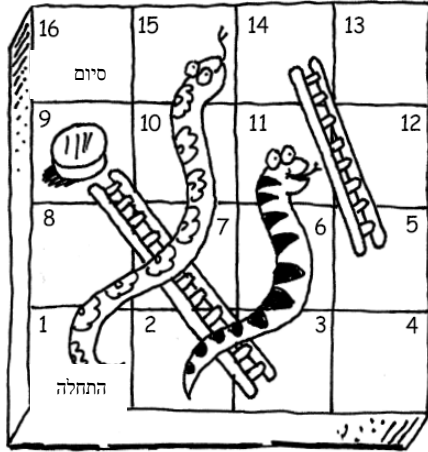
הוסיפו עוד תרגילים .
 $1 + 2 = 3$
 $4 + 5 + 6 = 7 + 8$



$$9 + 10 + 11 + 12 = 17 + 16 + 15$$

אתה נמצא במספר 9, אחרי 2 זריקות של קובייה הגעת למספר 16

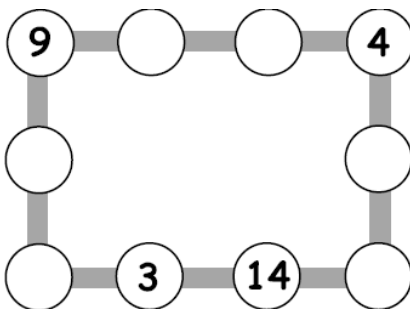
הראו בתרגילים את מהלך המשחק?



השתמשו במספרים 1, 2, 3, 5, 6, 8, 9

השלימו בעיגולים

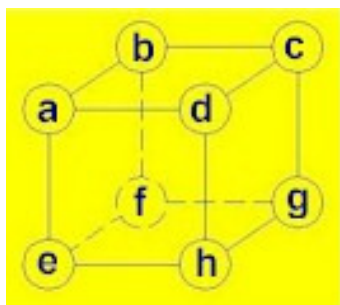
כך שסכום כל צלע יהיה 16



השלימו בעזרת המספרים


1, 2, 3, 4, 5, 9, 15, 14

כך שסכום כל צלע יהיה 20.



רשמו את המספרים 1-8 במקום האותיות
כך שסכום כל 4 קודקודים של פאה יהיו שווים

לשי מכוניות ותלת אופן הוא ספר 46 גלגלים
כמה אופנים ומכוניות יש לשי ?



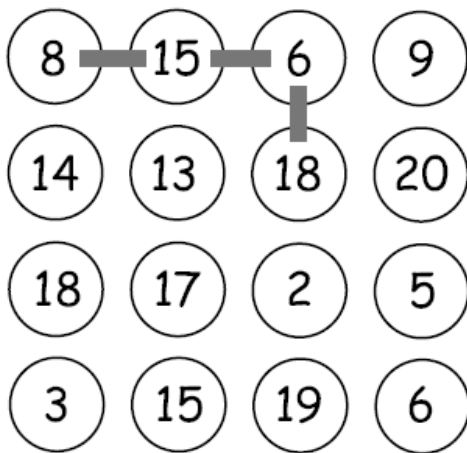
פעם אחרת ספר שי

5 גלגלים לכל מכונית ו-3 גלגלים לכל אופנים



הפעם סה"כ ספר 37 גלגלים . כמה מכוניות ואופנים יש לשי ?

רחל צועדת על לוח המספרים בטור ובשורה



כל פעם 4 מספרים כדוגמא

על אילו מספרים תצעד

להגיע לסכום הגדול ביותר ?

לסכום הקטן ביותר ?

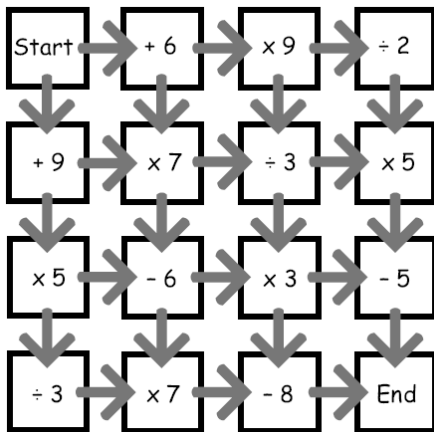
ב- 8 הבתים גרים ביחד 36 אנשים

בכל בית גרים מספר שונה של אנשים

בכל שורה או טור גרים 15 אנשים



כמה אנשים גרים בכל בית ?



מצאו דרך להגיע מהתחלה לסוף

שתוצאת התרגיל שווה 100

בחרו 4 מספרים מ-1-9 הציבו אותם בריבוע כמו בדוגמא

1 2 3 4 5 6 7 8 9

כתבו 4 מספרים (2 שורה, -2 טור)

1	2
4	7

שכומם שווה 100

סכומם הכי קטן

סכומם הכי גדול

סכומם השווה ל-200

$$12 + 47 + 14 + 27 = 100$$

הסכום של כל שורה או

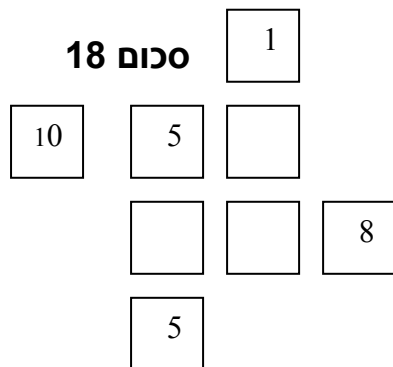
			75
			47
			74
			60
99	72	85	

המספרים הם
טור



כל צורה מייצגת מספר ,

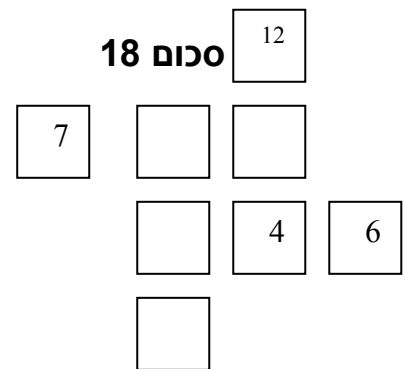
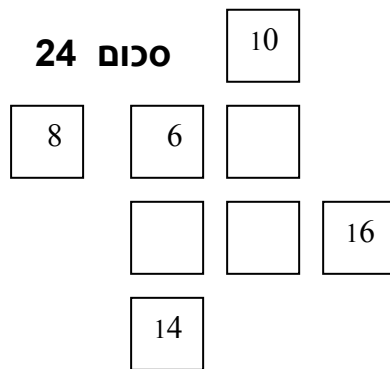
מהו המערך המספרי של כל צורה ?



השלימו מספרים ,

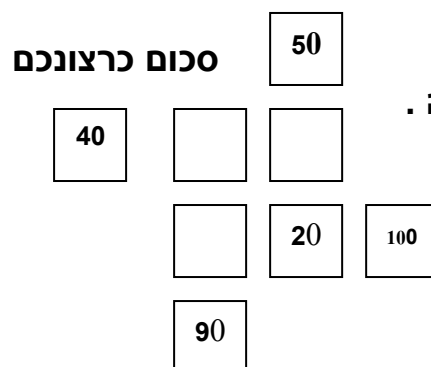
כך שסכום כל 3 ריבועים בטור ובשורה

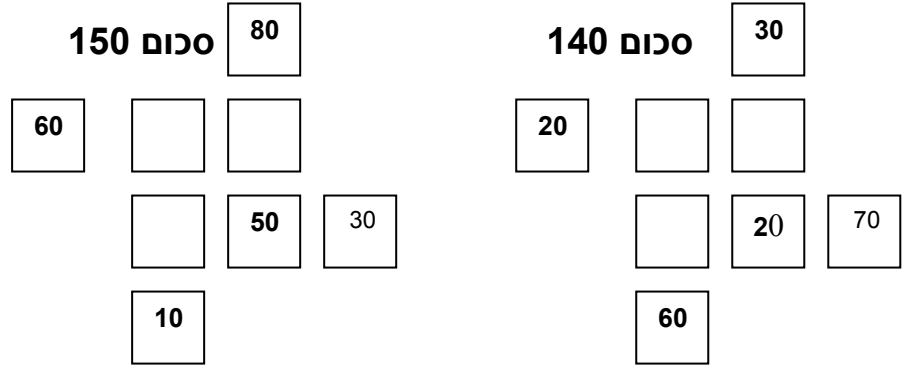
יהיו שווים



השלימו מספרים בריבועים

כך שסכום כל 3 ריבועים יהיה שווה .





הרכיבו מספרים דו ספרתיים בהתאם לספרות ולסכום :

$\square\square + \square\square + \square\square = 35$	ספרות 3, 1
$\square\square + \square\square + \square\square = 56$	ספרות 1, 2
$\square\square + \square\square + \square\square = 111$	ספרות 4, 3
$\square\square + \square\square + \square\square = 102$	ספרות 6, 2

מצאו 2 מספרים לכל שורה בהתאם לנתונים :

סכום	ההפרש בניהם	מכפלתם	המספר	המספר
10		24		
15	9			
	8	33		
14		40		
13	11			



השלימו את התרגילים בעזרת פתרון התשבץ :
 כך שנוכל לפתור את התשבץ ללא הפתרון הנתון .

¹ 6	5	² 4	³ 7	
0		⁴ 1	0	⁵ 3
⁶ 1	⁷ 2		⁸ 1	1
⁹ 1	0	¹⁰ 4		0
	¹¹ 1	0	0	1

מאונך

מאוזן

1) $2416 + \underline{\hspace{2cm}}$

1) $4050 + \underline{\hspace{2cm}}$

2) $\underline{\hspace{2cm}} - 34$

4) $\underline{\hspace{2cm}} : 2$

3) $716 - \underline{\hspace{2cm}}$

6) $\underline{\hspace{2cm}} + 5$

5) $1332 + \underline{\hspace{2cm}}$

8) $5 + \underline{\hspace{2cm}}$

7) $\underline{\hspace{2cm}} : 4$

9) $26 \times \underline{\hspace{2cm}}$

10) $28 + \underline{\hspace{2cm}}$

11) $1036 - \underline{\hspace{2cm}}$


השלימו מספרים במשבצות החזרות

בהתאם לפעולה והתוצאה :

תוצאה	פעולה
22	$\times 2$
= 44	$+ 4$
= 48	\div
=	$- 6$
= 10	\div
= 5	
= 35	$\times 4$
=	$+ 6$
= 146	$- 2$
=	
= 288	$\div 8$
=	$+$
= 42	

רשמו מה אפשר לדעת על המחברים והסכום ?

הציבו את הספרות מ- 0 עד 9 במקום הסימנים .



1	2		3		
4			5		6
		7		8	
	9		10		
11			12		
		13		14	15
	16		17		

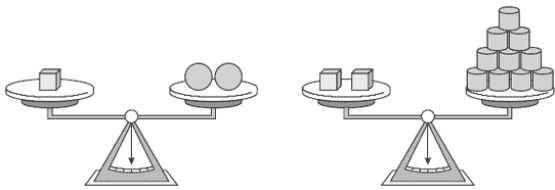
פתרו התרגילים והשלימו התשבץ :

מאונך

- 1 .. 11 x 10
- 2 .. 4 x 5
- 3 .. 8 x 9
- 5 .. 4 x 11
- 6 .. 2 x 9
- 7 .. 10 x 5
- 8 .. 10 x 8
- 9 .. 9 x 5
- 10 .. 7 x 5
- 11 .. 7 x 3
- 12 .. 1 x 11
- 13 .. 7 x 12
- 14 .. 11 x 3
- 15 .. 11 x 2

מאוזן

- 1 .. 2 x 6
- 3 .. 10 x 7
- 4 .. 2 x 5
- 5 .. 7 x 6
- 7 .. 9 x 6
- 8 .. 8 x 11
- 9 .. 5 x 8
- 10 .. 5 x 6
- 11 .. 5 x 5
- 12 .. 3 x 5
- 13 .. 9 x 9
- 14 .. 8 x 4
- 16 .. 2 x 12
- 17 .. 12 x 11



השלימו : כתבו תרגיל מתאים :

2 קוביות = גלילים _____

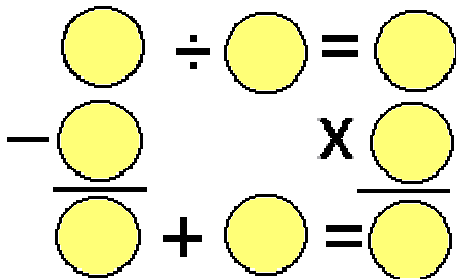
1 קוביה = _____ כדורים

10 גלילים = _____ כדורים

1 קוביה = _____ : גלילים

35 גלילים = _____ קוביות

*1 כדור = _____ : גלילים



הציבו את המספרים מ-8 – 1

בהתאם לסימנים :

רוני פתרה את התרגיל :

$$\begin{array}{r} 245 \\ - 37 \\ \hline 208 \end{array}$$

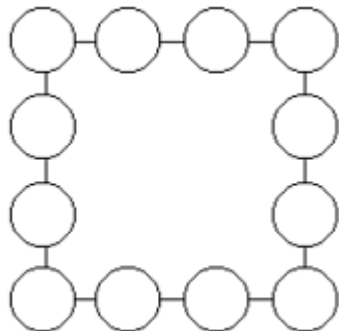
בהתאם לפתרון מהו השם האחר למספר 245 ?

תנו שמות נוספים כרצונכם :



+	E	7	G	H
A	7			15
3			11	
C				
6				16

השלימו מספרים בלוח החיבור
כך, שסכום כל הסכומים שווה 200 .



הציבו את המספרים 12 – 12
כך שסכום כל צלע שווה 26