

משימות בחשבון

פתרו בהתאם להוראות :



בחניה חונות 15 מכוניות



המכוניות צבועות באדום , צהוב , כחול ואפור



רוב המכוניות באדום

מספר המכוניות הכחולות גדול ממספר המכוניות האפורות



הכי מעט מכוניות יש בצהוב

כמה מכוניות מכל צבע ?

אדום : _____ צהוב : _____ כחול : _____ אפור : _____



בחנות ישנה כמות של כובעים בצבעים שונים



מספר הכובעים הוא : _____



מספר הכובעים הצהובים אי-זוגי



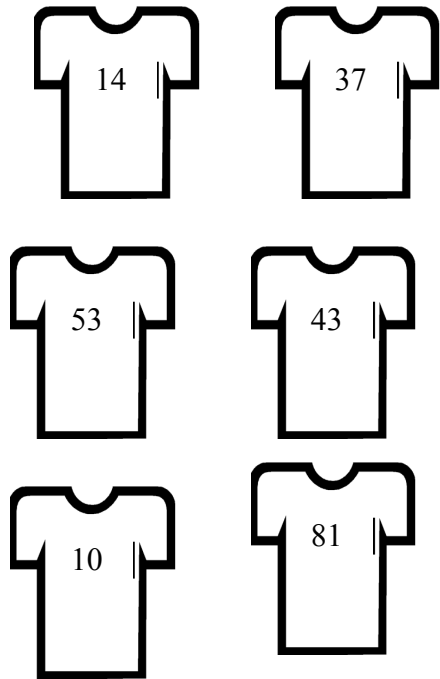
מספר הכובעים הכחולים זוגי

מספר הכובעים הכחולים קטן ב-1 ממספר הכובעים האדומים

כמה כובעים מכל צבע ?

צהוב : _____ אדום : _____ כחול : _____

אתה וקבוצת ילדים משחקת כדורגל . מספרי החולצות שלכם :



10 , 43 , 81 , 53 , 37 , 14

המספר שנשאר הוא שלך

גיל לובש חולצה עם מספר זוגי

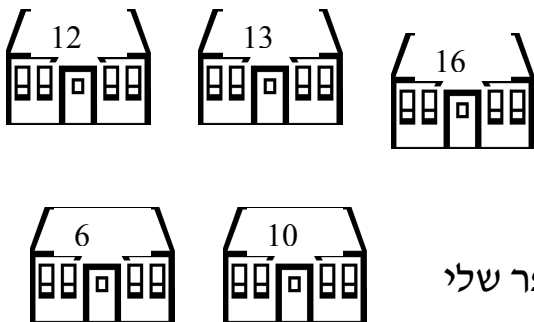
המספר של שי הוא הגדול ביותר

המספר של אבי קטן ב-1 עשרת מהמספר של נמרוד .

המספר של שרון הוא הדו ספרתי הכי קטן

מהם מספרי החולצות של הילדים ?

גיל : _____ שי : _____ אבי : _____ נמרוד : _____ שרון : _____ שלך : _____



מספרי הבתים של קבוצת ילדים הם :

ענבר אומרת : מספר הבית שלי כמספר האצבעות

הילה אומרת : מספר הבית של ענבר גדול ב-4 מהמספר שלי

מיכל אומרת : מספר הבית שלי הוא סכום מספרי הבתים של הילה וענבר

אפרת אומרת : מספר הבית שלי הוא זוגי

מה מספרי הבתים של :

סתו : _____ , הילה : _____ , ענבר : _____ , אפרת : _____



טלי ואחיותה אספו נרות צבעוניים

הכמות היא: _____



לטלי מספר זוגי של נרות כחולים ומספר אי-זוגי של נרות צהובים



לשקד ב-2 נרות יותר מענבר

ליעל נרות כתומים ומספרם הוא העוקב למספר הנרות הצהובים של ענבר




השאר נרות אדומים



כמה נרות מכל צבע ?

אדום: _____ כחול: _____ צהוב: _____ כתום: _____



ליפית וחברותיה צבעים שונים

ליפית 6 אדומים ו-4 כחולים

ליפית ב-2 צבעים פחות מהדר

ליפית ב-2 צבעים יותר משרה

כמה חברות ליפית ? _____

צבעו את הצבעים בהתאם לפתרון

כמה צבעים לכל אחת ? _____

חן , דן , גיל , אבי , רוני ושי לובשים חולצות עם הדפסי מצולעים

לשי ודן הדפס עם 

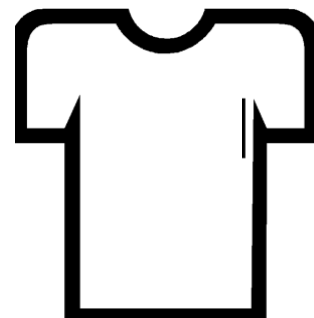


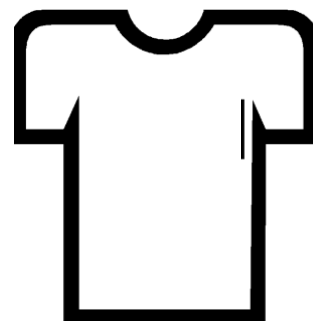

לאבי ודן הדפס עם 

לרוני ולשי הדפס עם 


לחן ולרוני הדפס עם 

איזה ילד לובש חולצה עם אילו הדפסים ?

ציירו את ההדפסים על החולצות ורשמו שם לכל ילד :



חברו שאלות לכמות הספרים כמו במשימות שבצעתם



לפניכם ניקוד של משחקים

98 88 71 93 89 67

לקבוצה ב מספר הנקודות שסכום ספרותיו הוא המספר הזו ספרתי הכי קטן

לקבוצה ב מספר הנקודה גדול ב-4 ממספר הנקודות של קבוצה ג

לקבוצה ד מספר נקודות זוגי

לקבוצה ד מספר הנקודות קטן ב-1 ממספר הנקודות של קבוצה ה

המספר שנשאר הוא מספר הנקודות של קבוצה ו

קבוצה א מספר הנקודות הקטן ביותר

כמה נקודות לכל קבוצה ?

א _____ ב _____ ג _____ ד _____ ה _____ ו _____