

7 0 0 0 7

8 0 0 0 8

9 0 0 0 9

1 0 0 0 1

2 0 0 0 2

3 0 0 0 3

4 0 0 0 ▶ 4 ▶

5 0 0 0 ▶ 5 ▶

6 0 0 0 ▶ 6 ▶

7 0 0 ▶ 7 0 ▶

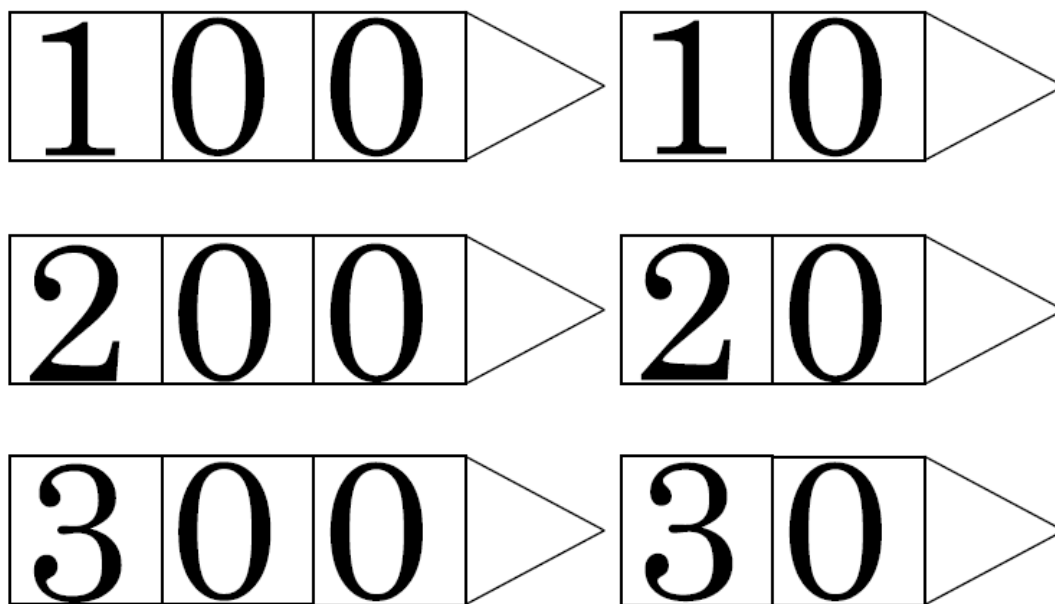
8 0 0 ▶ 8 0 ▶

9 0 0 ▶ 9 0 ▶

4 0 0 ▶ 4 0 ▶

5 0 0 ▶ 5 0 ▶

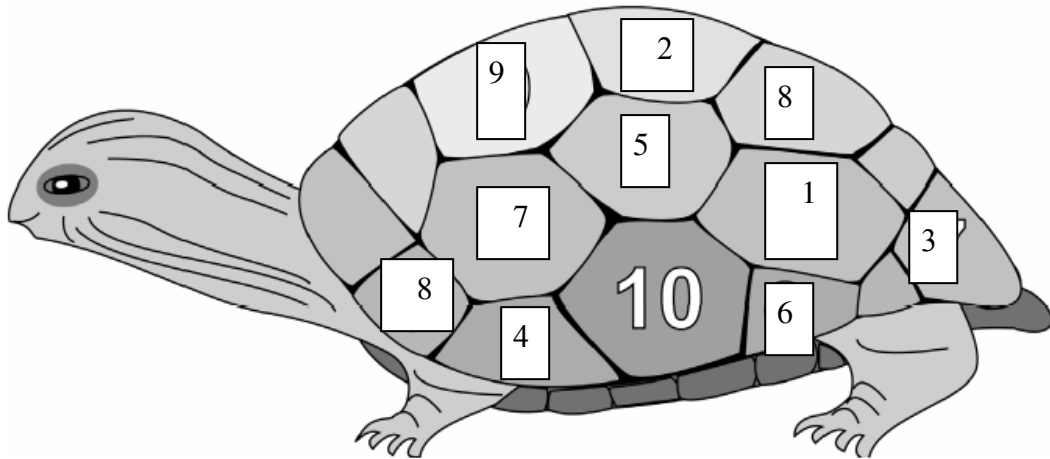
6 0 0 ▶ 6 0 ▶



### משחק בנית מספרים ותרגילים

לגזור כל מספר בנפרד חד ספרתי, דו ספרתי, תלת ספרתי, ארבע ספרתי  
ליצור מספרים על פי חידות:

לבנות מספרים על פי חידות מהם תרגילים  
ולמצוא את תוצאה סכום הפרש בעזרת הכרטיסים



**רשמו תרגיל אם אפשר יותר מתרגיל 1 בהתאם להוראה**

בחרו 2 מספרים שסכומם הכי גדול: \_\_\_\_\_

בחרו 2 מספרים שהפרשם הכי גדול? \_\_\_\_\_

בחרו 2 מספרים שסכום זוגי: \_\_\_\_\_

בחרו 2 מספרים שסכומם אי זוגי: \_\_\_\_\_

בחרו 2 מספרים שהפרשם הכי קטן: \_\_\_\_\_

בחרו שני מספרים שסכומם קטן מ-6: \_\_\_\_\_


בחרו 2 מספרים עוקבים שסכומם קטן מ-10: \_\_\_\_\_

בחרו מספרים עוקבים שסכומם גדול מ-10: \_\_\_\_\_

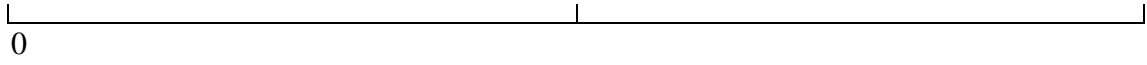
בחרו 3 מספרים עוקבים שסכומם 6: \_\_\_\_\_

בחרו 3 מחוברים שסכומם אי זוגי: \_\_\_\_\_

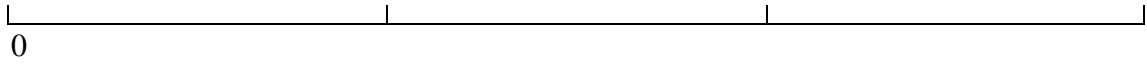
בחרו 3 מחוברים שסכומם אי זוגי: \_\_\_\_\_



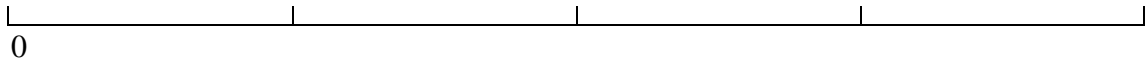
1



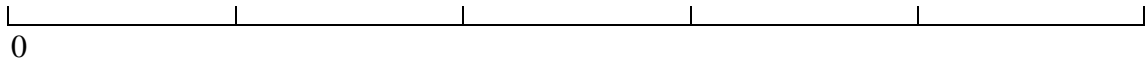
1



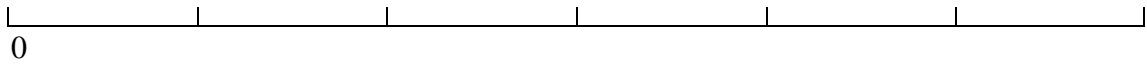
1




1



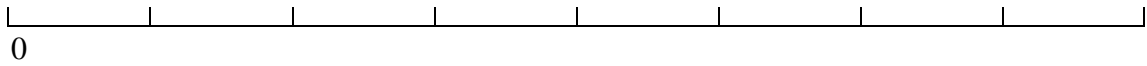
1




1



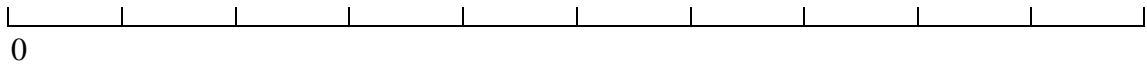
1



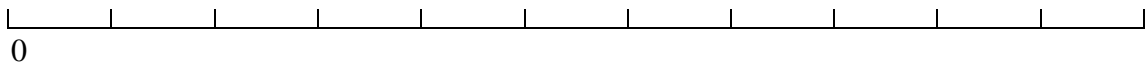
1



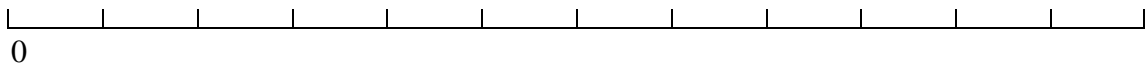
1



1



1



1

- |                                     |                                     |                                    |
|-------------------------------------|-------------------------------------|------------------------------------|
| 1) $\square + 30 = 50 + 40$         | (2) $\square + 20 = 50 + 40$        | (3) $\square + 10 = 50 + 40$       |
| 4) $10 + \square = 30 + 60$         | (5) $20 + \square = 30 + 60$        | (6) $30 + \square = 30 + 60$       |
| 7) $60 + 30 = \square + 40$         | (8) $60 + 30 = \square + 50$        | (9) $60 + 30 = \square + 70$       |
| 10) $80 + 10 = 50 + \square$        | (11) $80 + 10 = 60 + \square$       | (12) $80 + 10 = 10 + \square$      |
| 13) $\square + 45 = 55 + 35$        | (14) $\square + 70 = 15 + 75$       | (15) $\square + 35 = 50 + 35$      |
| 16) $5 + \square = 55 + 35$         | (17) $10 + \square = 80 + 10$       | (18) $11 + \square = 21 + 59$      |
| 19) $12 + 78 = \square + 48$        | (20) $17 + 73 = \square + 43$       | (21) $18 + 72 = \square + 42$      |
| 22) $84 + 6 = 54 + \square$         | (23) $86 + 4 = 56 + \square$        | (24) $89 + 1 = 59 + \square$       |
| 25) $\square + 72 = 12 + 78$        | (26) $\square + 54 = 34 + 56$       | (27) $\square + 43 = 53 + 37$      |
| 28) $12 + \square = \square + 12$   | (29) $90 + \square = \square + 20$  | (30) $45 + \square = \square + 45$ |
| 1) $\square + 240 = 140 + 220$      | (2) $\square + 210 = 130 + 230$     | (3) $\square + 100 = 270 + 90$     |
| 4) $190 + \square = 130 + 230$      | (5) $220 + \square = 200 + 160$     | (6) $40 + \square = 30 + 230$      |
| 7) $250 + 110 = \square + 90$       | (8) $180 + 180 = \square + 80$      | (9) $50 + 210 = \square + 70$      |
| 10) $360 + 0 = 60 + \square$        | (11) $360 + 0 = 90 + \square$       | (12) $360 + 0 = 180 + \square$     |
| 13) $\square + 45 = 295 + 65$       | (14) $\square + 135 = 185 + 175$    | (15) $\square + 35 = 45 + 315$     |
| 16) $5 + \square = 10 + 350$        | (17) $95 + \square = 105 + 255$     | (18) $101 + \square = 261 + 99$    |
| 19) $292 + 68 = \square + 48$       | (20) $297 + 63 = \square + 43$      | (21) $298 + 62 = \square + 42$     |
| 22) $174 + 186 = 154 + \square$     | (23) $176 + 184 = 156 + \square$    | (24) $179 + 181 = 159 + \square$   |
| 25) $\square + 172 = 192 + 168$     | (26) $\square + 154 = 217 + 143$    | (27) $\square + 143 = 49 + 311$    |
| 28) $180 + \square = \square + 180$ | (29) $300 + \square = \square + 60$ | (30) $270 + \square = \square +$   |

סדרו את הכרטיסים 3 X 3 ,

כך שסכום התרגיל בצלע כרטיס אחד שווה לסכום התרגיל בצלע הכרטיס השני

$4 + 96$ $4 + 84$ $49 + 4$ $33 + 10$	$95 + 8$ $45 + 5$ $01 + 03$ $41 + 5$	$88 + 2$ $9 + 62$ $88 + 21$ $32 + 4$
$38 + 5$ $6 + 73$ $8 + 43$ $81 + 9$	$18 + 6$ $2 + 51$ $42 + 6$ $66 + 7$	$3 + 07$ $49 + 2$ $46 + 7$ $100 + 3$
$3 + 7$ $30 + 3$ $6 + 51$ $87 + 9$	$8 + 88$ $98 + 3$ $42 + 6$ $104 + 6$	$107 + 3$ $31 + 9$ <i>I am a corner.</i> $62 + 3$ $33 + 11$